

## **Graphics**

(DESENVOLVIDO PELO ACADÊMICO ALEXANDRE VANTUIR ALBRECHT)

Conteúdo: Educação, violência e racismo.

Turma: 9º ano

Material: Um tabuleiro de trilha e 20 cartas com perguntas com pontuação de 2, 4 ou 6 pontos cada.

Desenvolvimento: O jogo inicia com o primeiro jogador retirando uma carta do baralho, acertando a resposta o jogador andará o número de casas correspondentes na pontuação da carta, respondendo de forma incorreta voltará o mesmo número de casas correspondentes na pontuação da carta. Acertando o errando a questão, passará a vez a para o próximo jogador. O jogo finaliza quando um dos jogadores alcançar a última casa indicada no tabuleiro.

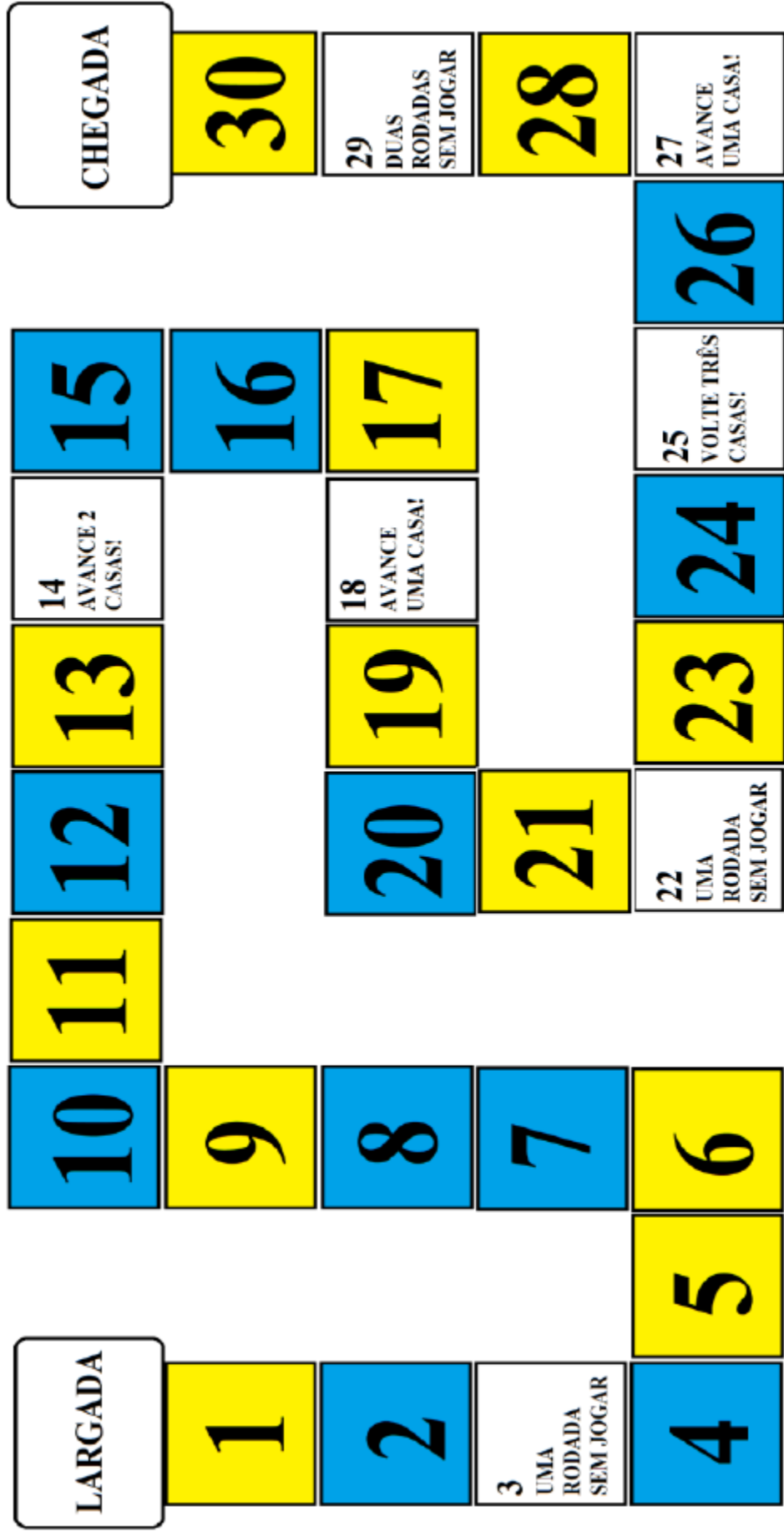
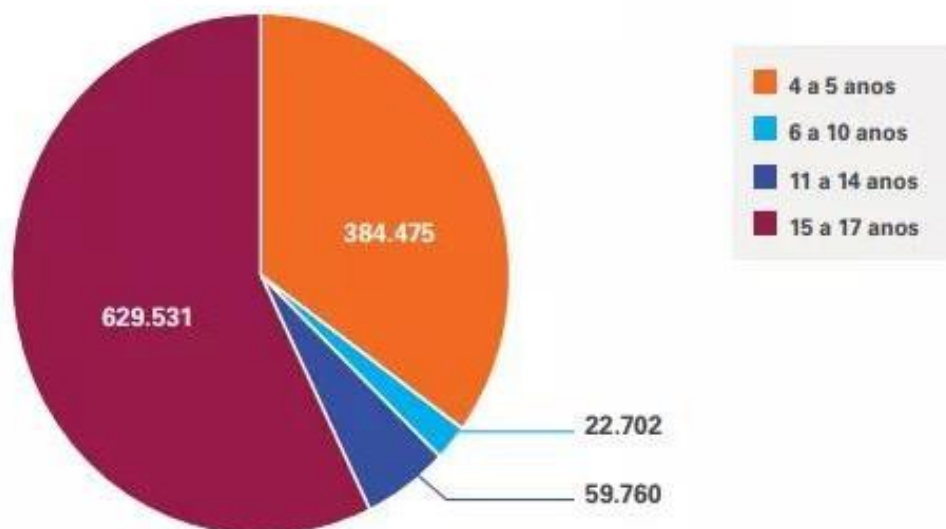


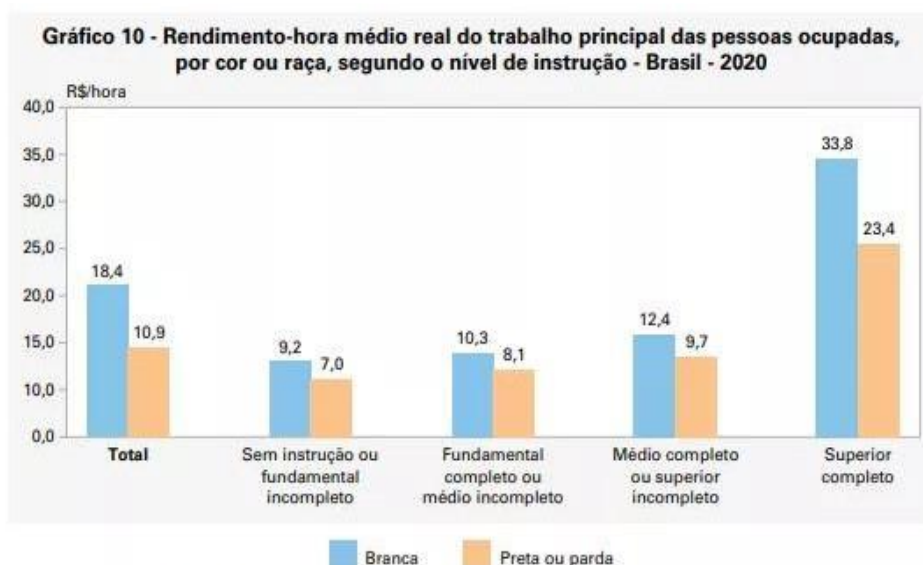
Gráfico 1: População de 4 a 17 anos fora da escola no Brasil

**Gráfico 1. População de 4 a 17 anos fora da escola, Brasil, 2019**



**Fonte:** IBGE. Pnad 2019. **Nota:** Não foram considerados nos cálculos 549.466 jovens de 15 a 17 anos que declararam ter completado o Ensino Médio. Desses, 148.026 estão frequentando a escola e 401.440 não estão frequentando a escola.

Gráfico 2: Rendimento médio do trabalho brasileiro por hora de acordo com sua raça e instrução educacional



Fonte: IBGE, Pesquisa Nacional por Amostra de Domicílios Contínua 2020.

Nota: Dados consolidados de quintas visitas.

Gráfico 3: Mapa da violência no Brasil

**As MVI (Mortes Violentas Intencionais) compreendem as seguintes categorias (2020).**

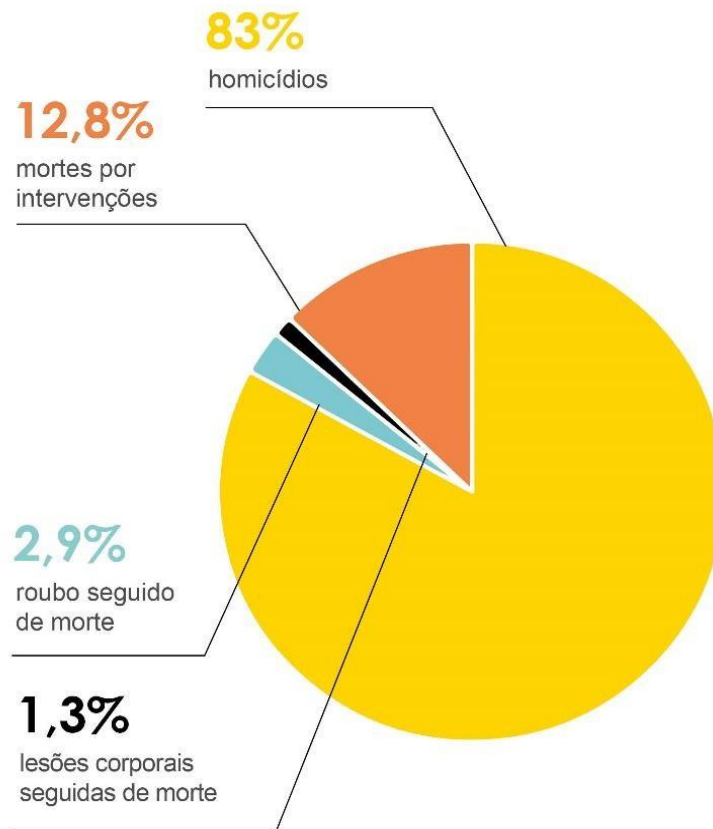


Gráfico 1 - 2 pontos  
Qual a faixa etária que mais está fora da escola?

Gráfico 1 Gráfico 1 - 2 pontos  
Qual a faixa etária que menos está fora da escola?

Gráfico 1 Gráfico 1 - 4 pontos  
Qual a diferença do abandono escolar entre as faixas etárias 11 a 14 e 15 a 17?

Gráfico 1 Gráfico 1 - 4 pontos  
Qual a diferença do abandono escolar entre as faixas etárias 4 a 5 e 6 a 10?

Gráfico 1 Gráfico 1 - 6 pontos

Qual seria o abandono escolar da faixa 4 a 5 se ocorresse um crescimento de 15%?

Gráfico 1 Gráfico 1 - 6 pontos

Qual seria o abandono escolar da faixa 6 a 10 se ocorresse um crescimento de 13%?

Gráfico 2 Gráfico 1 - 4 pontos

Independente do grau de escolaridade, as pessoas pretas ganham mais que as brancas. Verdadeiro ou falso?

Gráfico 2 Gráfico 1 - 4 pontos

Qual a diferença média dos ganhos de pessoas pretas e brancas no Brasil?

Gráfico 2 Gráfico 1 - 4 pontos

Independente do grau de escolaridade, as pessoas pretas ganham menos que as brancas. Verdadeiro ou falso?

Gráfico 2 Gráfico 1 - 6 pontos

Em média quantos porcentos as pessoas negras deveriam ganhar a mais para ter um ganho médio igual ou maior que os brancos?

Gráfico 2 Gráfico 1 - 4 pontos

Independente do grau de escolaridade, as pessoas pretas e brancas ganham iguais. Verdadeiro ou falso?

Gráfico 2 Gráfico 1 - 6 pontos

Qual a diferença dos ganhos médios entre pessoas brancas e pretas com superior completo?

Gráfico 3 Gráfico 1 - 2 pontos

Qual a categoria com maiores índices de mortes violentas no Brasil?

Gráfico 3 Gráfico 1 - 2 pontos

Qual a categoria com menores índices de mortes violentas no Brasil?

Gráfico 3 Gráfico 1 - 4 pontos

Qual a diferença de mortes com lesões corporais e roubos seguidos de morte?

Gráfico 3 Gráfico 1 - 6 pontos

Qual seria o índice e mortes por intervenções se esse crescesse 25%?

Gráfico 3 Gráfico 1 - 6 pontos

Se a cada ano as mortes por homicídio decrescesse 2%, qual seria os indicies em três anos?

Gráfico 3 Gráfico 1 - 4 pontos

Qual a diferença entre mortes por homicídios e mortes por intervenções?

Gráfico 1 Gráfico 1 - 6 pontos

Qual seria o abandono escolar da faixa 11 a 14 se ocorresse um de decréscimo de 12%?

Gráfico 1 Gráfico 1 - 6 pontos

Qual seria o abandono escolar da faixa 15 a 17 se ocorresse um de decréscimo de 11%?