

GRÁFICOS DOS ANIMAIS

(DESENVOLVIDO PELA ACADÊMICA PATRÍCIA F. B. De S. BACCHI)

Conteúdo: Animais

Turma: 6º ao 9º ano

Materiais: Tabuleiro, 30 fichas com perguntas, dado, marcadores para usar como peões.

Desenvolvimento: No início do jogo, os participantes lançam o dado para determinar quem começa; aquele que obtiver o maior número inicia. A partir daí, cada jogador, em sua vez, sorteia uma ficha, lê a pergunta correspondente e, caso necessário, realiza os cálculos mentalmente. Se a resposta estiver correta, o jogador avança com seu peão o número de casas indicado na ficha. Caso erre, permanece na mesma posição. Ao longo da trilha, o jogo reserva algumas surpresas: fichas que instruem o jogador a avançar ou retroceder um número específico de casas, tornando o percurso imprevisível e mais desafiador. O objetivo é simples: vencerá aquele que primeiro alcançar a linha de chegada. Para tornar a dinâmica mais emocionante, é recomendável estabelecer um tempo limite para cada resposta, incentivando agilidade e raciocínio rápido. Assim, o jogo ganha um ritmo mais intenso e divertido para todos os participantes.

Não foi dessa vez
fique 1 rodada
sem jogar

Você se deu mal
volte 3 casas



Chegada

Início

**Uau!!!
Que sorte
Avance
4 casas**

**Não foi
dessa vez
fique 1 rodada
sem jogar**

**Uau!!!
Que sorte
Avance
4 casas**

GRÁFICO 1

Animais mais adotados :



GRÁFICO 2

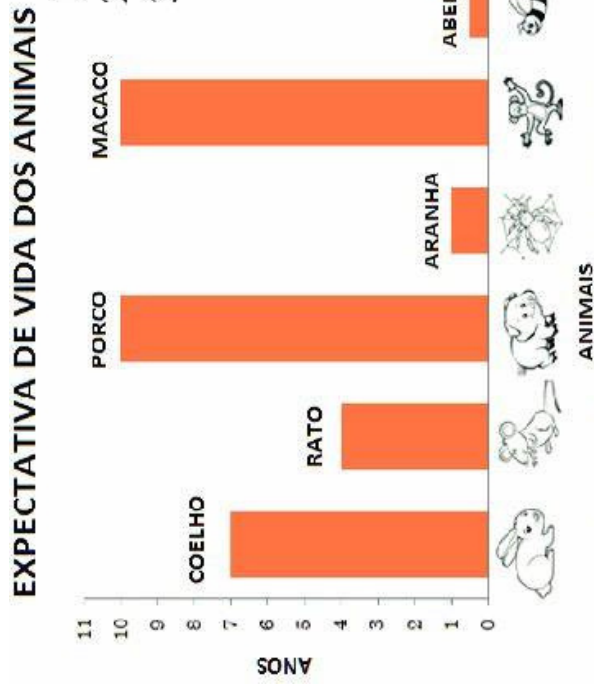


GRÁFICO 3

SETOR PET - Cenário Mundial

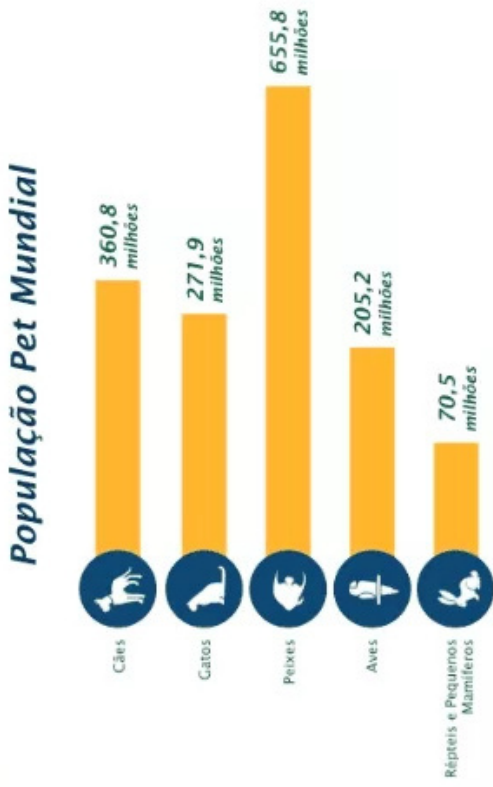


GRÁFICO 6

QUANTIDADE DE ESPÉCIES ANIMAIS IDENTIFICADAS NO CERRADO

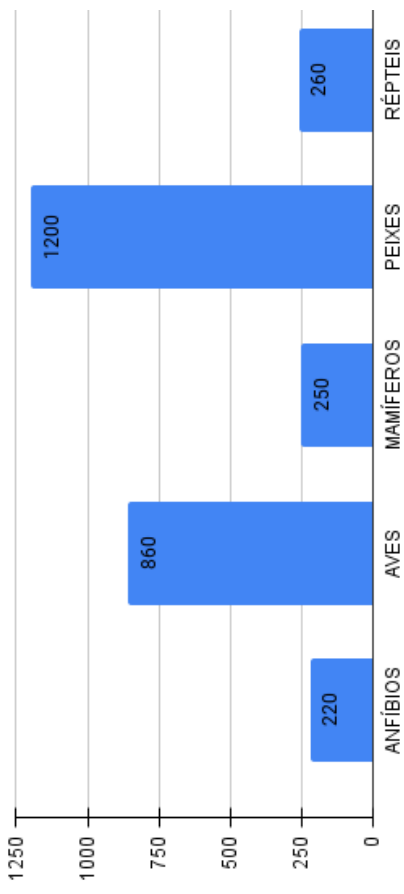


GRÁFICO 4

Criação de animais

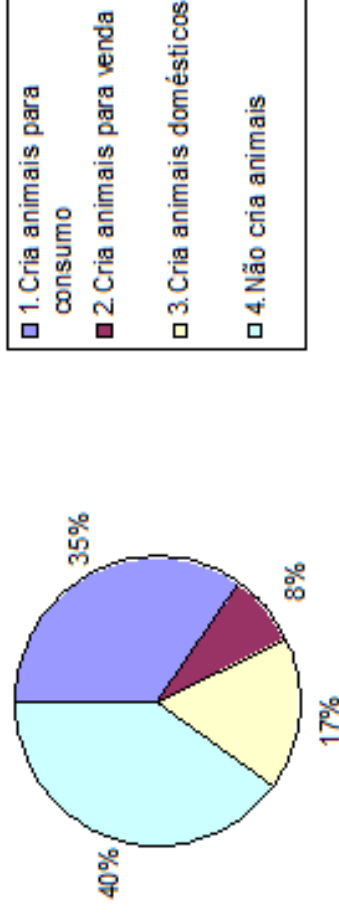


GRÁFICO 5

VERTEBRADOS VULNERÁVEIS

Coletando dados da IUCN e da CITES, os pesquisadores encontraram que 5579 das 31745 espécies de vertebrados terrestres analisadas (~18%) estão sendo vendidas e compradas ao redor do mundo, incluindo mais de 2 mil aves e quase 1,5 mil mamíferos, muitos dos quais capturados do meio selvagem.

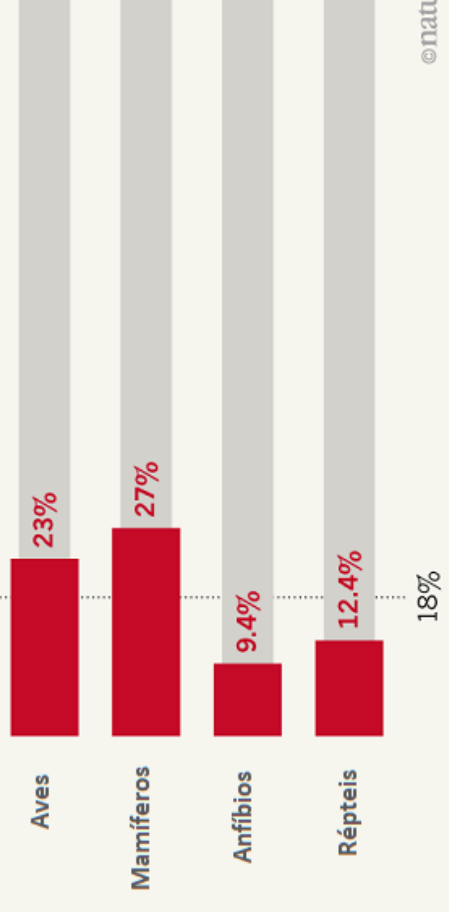


GRÁFICO 7

Espécies ameaçadas

% de espécies ameaçadas em cada grupo de seres vivos, de acordo com a Lista Vermelha da IUCN

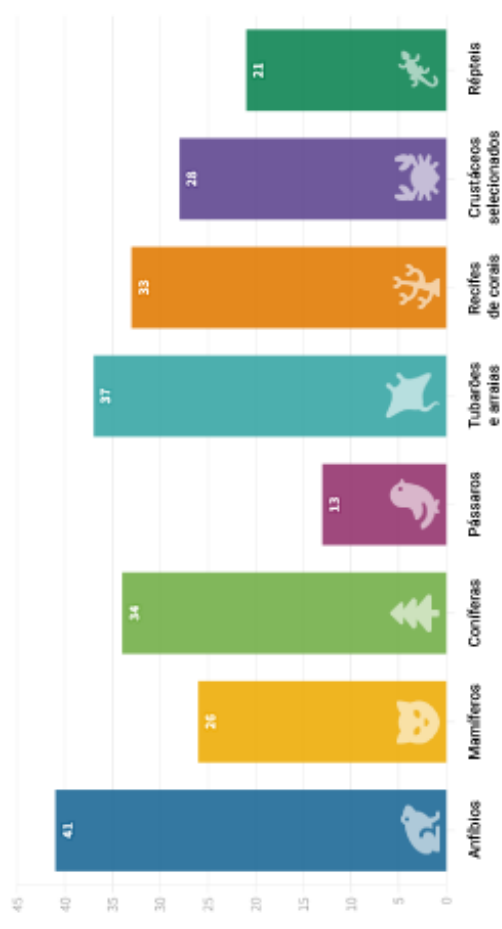


GRÁFICO 9

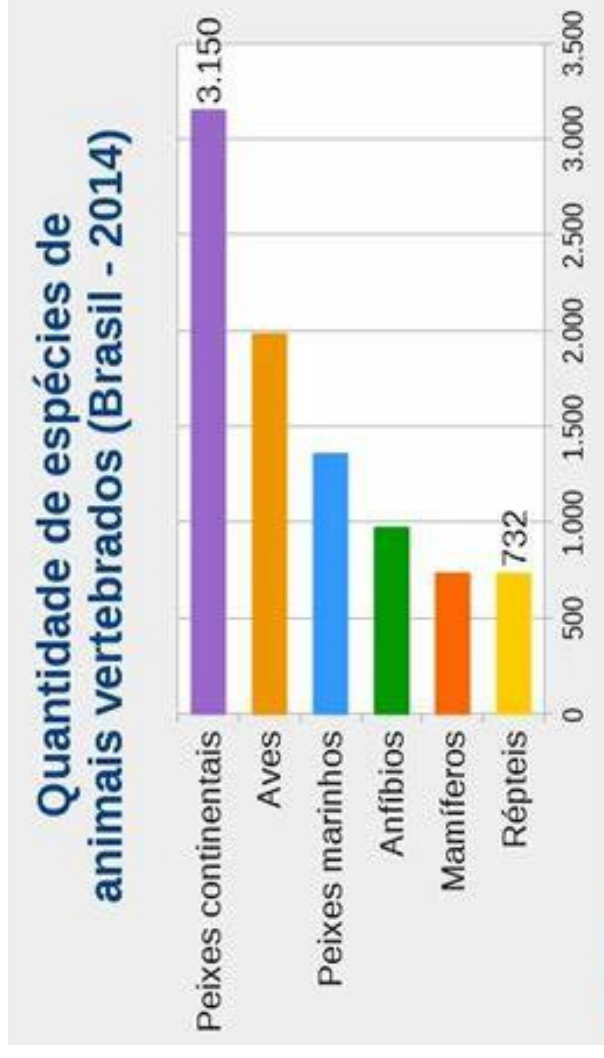
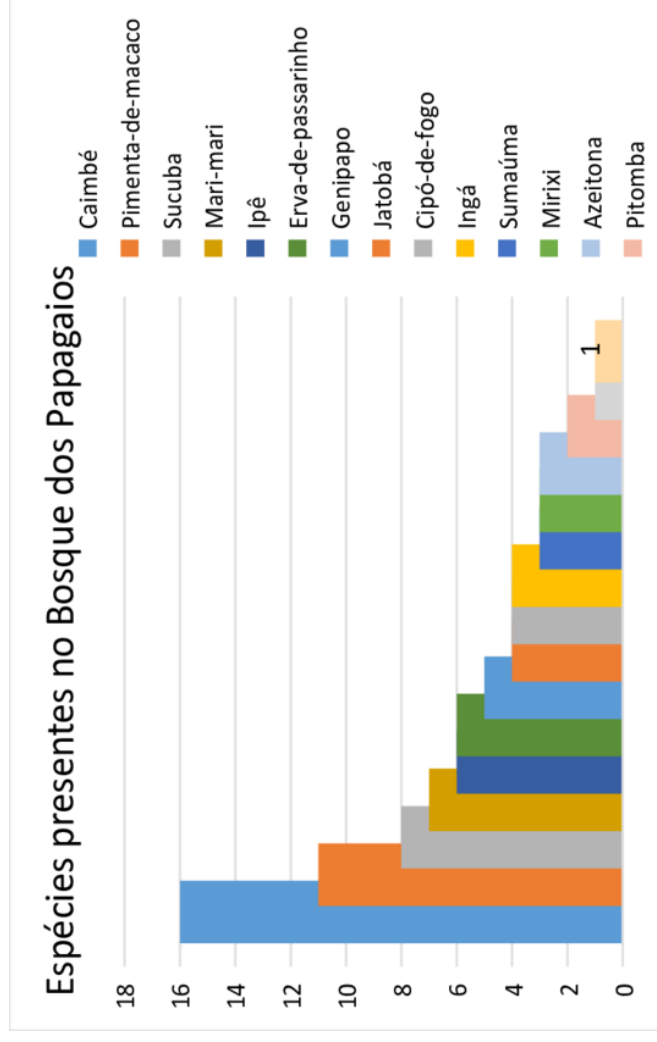


GRÁFICO 8



1 ponto

No gráfico 1, quais animais tem o mesmo percentual de adoção ?

2 pontos

No gráfico 1, qual animal é o terceiro mais adotado?

2 pontos

No gráfico 2, a abelha é a que tem a menor expectativa, depois dela quem teria a menor expectativa de vida ?

3 Ponto

No gráfico 3, qual é a diferença do cachorro para as aves ?

6 pontos

No gráfico 3, se fossemos ler como porcentagem, quantos por cento representaria os gatos ?

3 pontos

No gráfico 1, qual é a diferença entre o mais adotado e o menos adotado ?

1 ponto

No gráfico 2 quais são os animais com maior expectativa de vida ?

4 pontos

No gráfico 2, qual é a diferença entre rato e a abelha ?

2 pontos

No gráfico 3, qual é o animal que mais se reproduz ?

1 ponto

No gráfico 4, quantos por cento criam animais domésticos?

1 ponto

No gráfico 4, o que representa a quantidade de 8%?

2 pontos

No gráfico 5, qual foi o terceiro animal mais capturado ?

6 pontos

No gráfico 6, quantos animais no total foram identificados no Cerrado?

1 pontos

No gráfico 6, qual foi o animal mais identificado no Cerrado?

1 pontos

No gráfico 7, qual é a espécie mais ameaçada ?

5 pontos

No gráfico 4, se separarmos entre os que criam animais para alguma finalidade e os que não criam, qual teria mais?

1 ponto

No gráfico 5, quantos por cento teve de captura dos mamíferos?

4 pontos

No gráfico 6, quantas espécies foram encontradas no Cerrado?

3 pontos

No gráfico 6, qual é a diferença das aves com os peixes?

3 pontos

No gráfico 7, qual é a diferença entre a segunda e a quarta espécie mais ameaçada ?

1 ponto

No gráfico 8, qual é a espécie menos presente no bosque dos papagaios?

4 pontos

No gráfico 8, qual a diferença entre a espécie Ipê e Ingá?

4 pontos

No gráfico 9, qual é a diferença entre os peixes continentais e os répteis?

2 pontos

No gráfico 8, qual é a espécie que foi encontrada 8 aves no bosque dos papagaios?

1 pontos

No gráfico 6, quantos anfíbios foram encontrados no Cerrado?

3 pontos

No gráfico 8, qual é a espécie que tem apenas 2 presentes no bosque dos papagaios ?

1 ponto

No gráfico 8, qual é a espécie que mais está presente no bosque dos papagaios?

2 pontos

No gráfico 9, qual é a espécie que está mais próxima dos 1.000?

4 pontos

No gráfico 7, qual é a diferença entre mamíferos e os pássaros?

1 pontos

No gráfico 1, qual animal é menos adotado?