

JOGO DOS GRÁFICOS

(CRIADO POR TALÍA CORSO)

Conteúdo: Gráficos

Materiais: Um tabuleiro, EVA (peões) e um dado.

Desenvolvimento: Joga-se com dois a seis jogadores, eles iram conversar sobre qual vai ser a sequência em que jogaram, após isso terão que jogar o dado e andar o número de casas que cair, a cor que está simbolizada na casa corresponde a um gráfico, o jogador deve retirar uma carta correspondente ao gráfico e responder a pergunta que ela contém, caso a acerte, na carta está a quantidade de casas que ele pode andar, se errar permanece na mesma casa, ganha quem chegar por primeiro no final.

START



01

02

03

04

05

06

07

08

09

10

11

12

13

14

15

16

17

18

19

20

21

22

23



Gráfico 1



Gráfico 2



Gráfico 3



Gráfico 4



Gráfico 5



Gráfico 6




GRÁFICO 1

CLIMOGRAMA

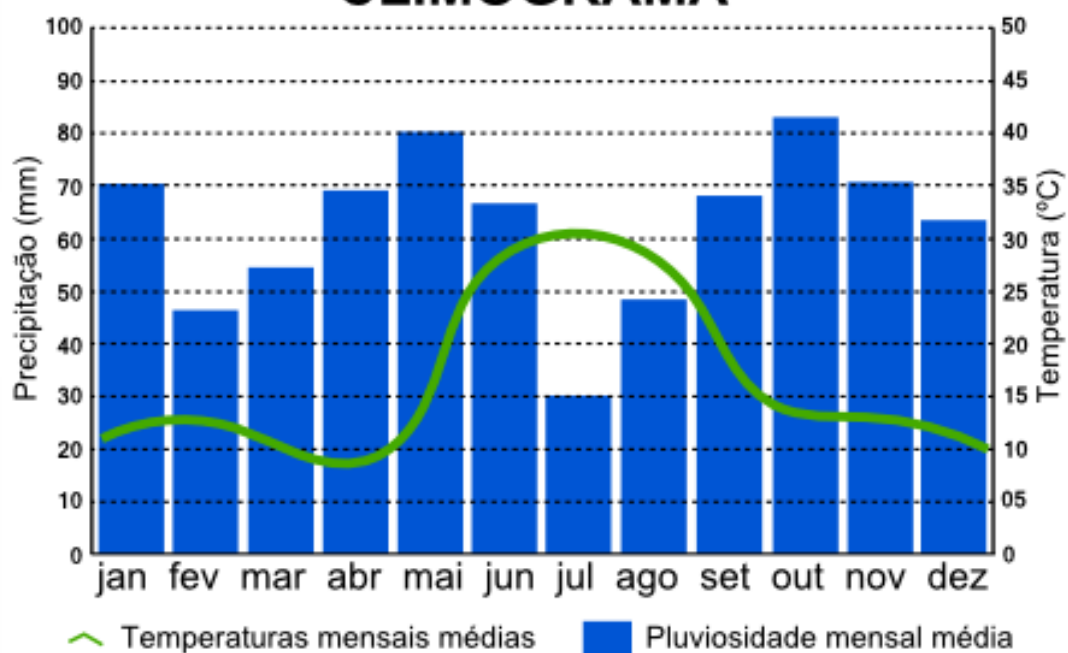


GRÁFICO 2

ANO DE 2022

MAPA DA VIOLÊNCIA CONTRA AS MULHERES NA CIDADE DE GUARULHOS

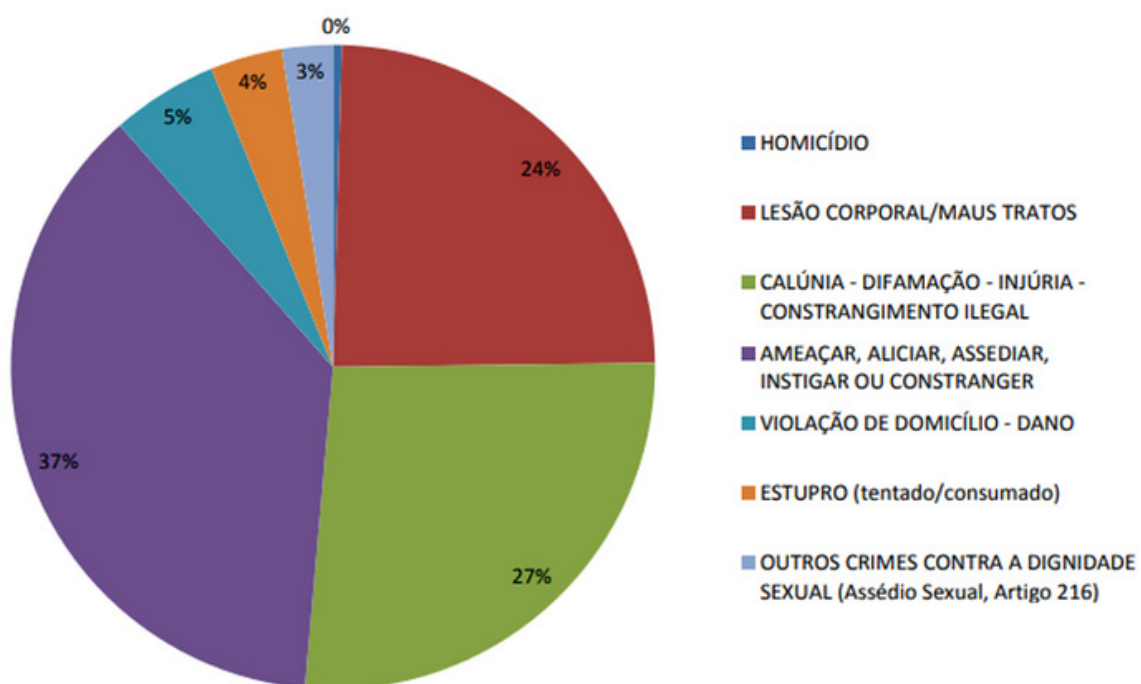


GRÁFICO 3

Distribuição percentual da Segurança Alimentar e dos níveis de Insegurança Alimentar (IA) no país. Brasil e macrorregiões. II VIGISAN - SA/IA e Covid-19, Brasil, 2021/2022.

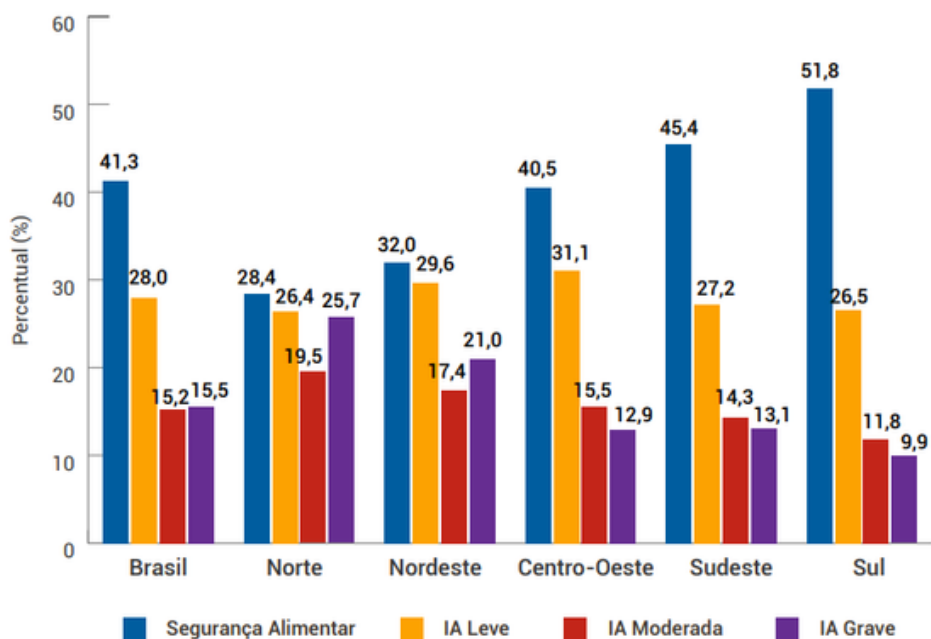
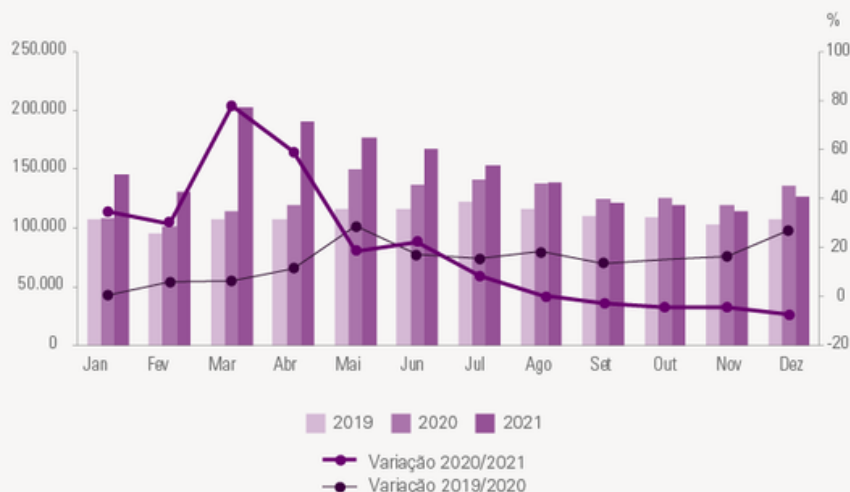


GRÁFICO 4

Óbitos ocorridos no ano e variação percentual Segundo o mês de ocorrência | Brasil



Fonte: Estatísticas do Registro Civil - 2019/2021

GRÁFICO 5

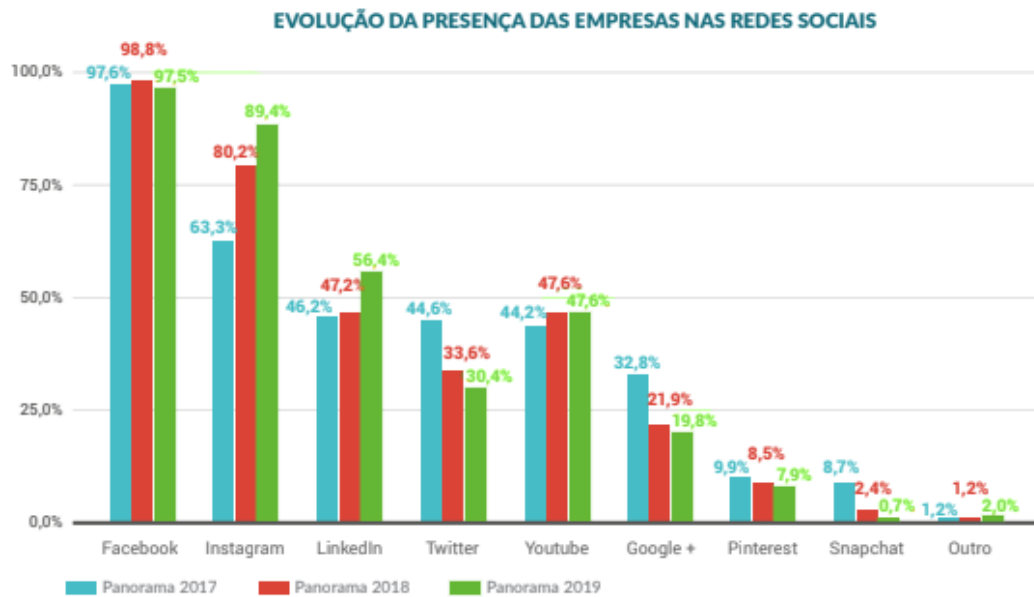


GRÁFICO 6

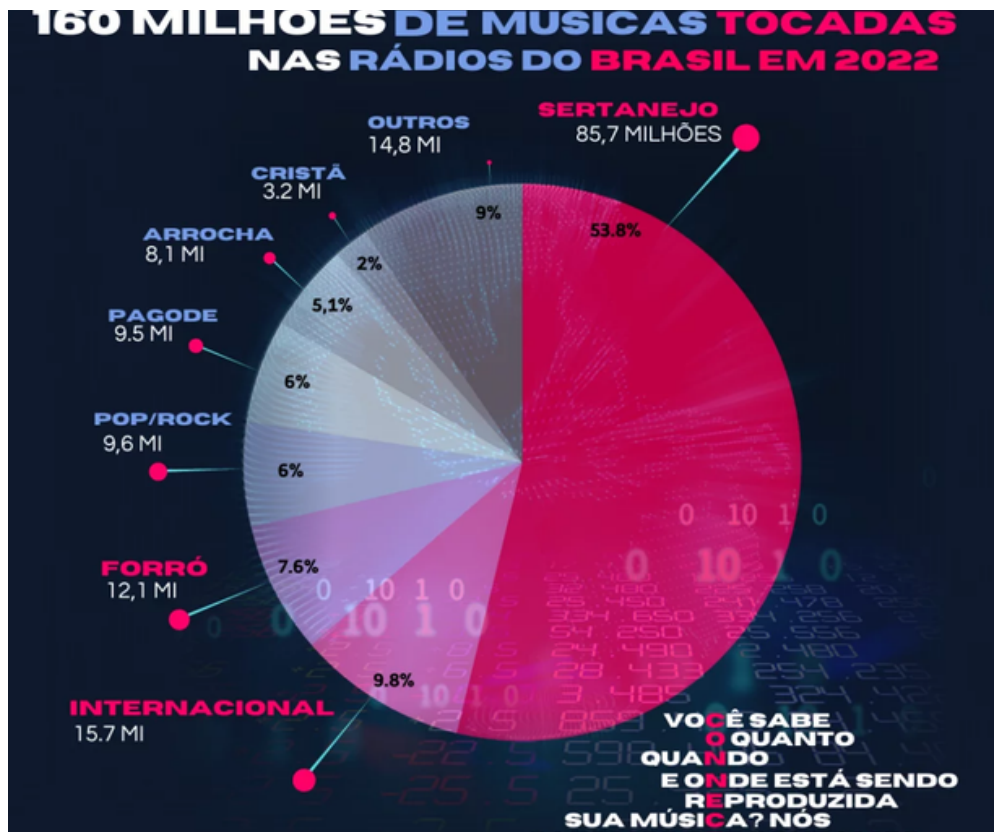


GRÁFICO 1
1 PONTO
QUAL FOI O
MÊS EM QUE
OCORREU
MAIS
CHUVAS?

GRÁFICO 1
2 PONTOS
QUAL MÊS
GEROU MAIS
VARIAÇÃO DE
TEMPERATURA?

GRÁFICO 1
3 PONTOS
QUAIS FORAM
OS TRÊS MESES
MAIS QUENTES?

GRÁFICO 1
1 PONTO
QUAIS OS TRÊS
MESES COM AS
TEMPERATURAS
MAIS BAIXAS?

GRÁFICO 1
2 PONTOS
QUAL MÊS
HOUVE A MENOR
QUANTIDADE DE
CHUVA?

GRÁFICO 1
3 PONTOS
MÊS COM A
MAIOR
TEMPERATURA E
MINOR
PLUVIOSIDADE?

GRÁFICO 2
1 PONTO
QUAL A VIOLÊNCIA
QUE ACONTECE COM
MAIOR FREQUÊNCIA
CONTRA A MULHER
EM GUARULHOS?

GRÁFICO 2
2 PONTOS
QUAL A
PORCENTAGEM DE
DIFERENÇA ENTRE A
VIOLÊNCIA QUE MAIS
OCORRE E A QUE
MENOS OCORRE?

GRÁFICO 2
3 PONTOS
QUAL O PERCENTUAL
RESULTANTE DA
SOMA DAS TRÊS
VIOLÊNCIAS MAIS
FREQUENTES?

GRÁFICO 2
1 PONTO
QUAL O PERCENTUAL
RESULTANTE DA
SOMA DAS TRÊS
VIOLÊNCIAS MENOS
FREQUENTES?

GRÁFICO 2
2 PONTOS
SUPONDO QUE 200
PESSOAS FIZERAM PARTE
DA PESQUISA QUE GEROU
ESTE GRÁFICO, QUANTAS
PESSOAS SOFRERAM
LESÃO CORPORAL/MAUS
TRATOS?

GRÁFICO 2
3 PONTOS
SUPONDO QUE 300
PESSOAS FIZERAM
PARTE DA PESQUISA
QUE GEROU ESTE
GRÁFICO, QUANTAS
PESSOAS SOFRERAM
VIOLAÇÃO DE
DOMICÍLIO - DANO?

**GRÁFICO 3
1 PONTO
QUAL A REGIÃO COM
MAIS SEGURANÇA
ALIMENTAR?**

**GRÁFICO 3
2 PONTOS
QUAL A REGIÃO COM
A TAXA DE
INSEGURANÇA
ALIMENTAR GRAVE
MAIOR?**

**GRÁFICO 3
3 PONTOS
QUAL A REGIÃO
ONDE A MENOR
VARIÇÃO ENTRE OS
ITENS DA
PESQUISA?**

**GRÁFICO 3
1 PONTO
QUAL A REGIÃO COM
MAIOR VARIÇÃO
ENTRE OS ITENS DA
PESQUISA?**

**GRÁFICO 3
2 PONTOS
QUAL REGIÃO MAIS
SE ASSEMELHA AOS
DADOS DO BRASIL
NA INSEGURANÇA
ALIMENTAR
MODERADA?**

**GRÁFICO 3
3 PONTOS
QUAL REGIÃO MAIS
SE ASSEMELHA AOS
DADOS DO BRASIL
NA INSEGURANÇA
ALIMENTAR LEVE?**

**GRÁFICO 3
1 PONTO
QUAL A REGIÃO COM
MAIOR TAXA DE
INSEGURANÇA
ALIMENTAR GRAVE?**

**GRÁFICO 4
2 PONTOS
EM QUE ANO
OCORREU A MAIOR
QUANTIDADE DE
ÓBITOS EM 2019?**

**GRÁFICO 4
3 PONTOS
EM QUE ANO
OCORREU A MENOR
QUANTIDADE DE
ÓBITOS EM 2019?**

**GRÁFICO 4
1 PONTO
EM QUE MÊS HOVE
A MAIOR VARIÇÃO
DE ÓBITOS ENTRE
2019 E 2021?**

**GRÁFICO 4
2 PONTOS
EM QUE MÊS HOVE
A MENOR VARIÇÃO
DE ÓBITOS ENTRE
2019 E 2021?**

**GRÁFICO 4
3 PONTOS
QUE MÊS A
QUANTIDADE DE
ÓBITOS TEVE A
MAIOR SEMELHANÇA
DE 2019 E 2020?**

**GRÁFICO 4
1 PONTO
QUE MÊS A
QUANTIDADE DE
ÓBITOS TEVE A
MAIOR DIFERENÇA
ENTRE 2019 E
2020?**

**GRÁFICO 4
2 PONTOS
QUAL ANO
OCORRERAM MAIS
ÓBITOS?**

**GRÁFICO 5
1 PONTO**

**QUAL EMPRESA TEVE
O MAIOR
CRESCIMENTO ENTRE
2017 E 2019?**

**GRÁFICO 5
2 PONTOS**

**QUAL EMPRESA TEVE
A MAIOR DIMINUIÇÃO
DA PRESENÇA NAS
REDES SOCIAIS?**

**GRÁFICO 5
3 PONTOS**

**QUAL EMPRESA MAIS
CRESCEU ENTRE 2017
E 2018?**

**GRÁFICO 5
1 PONTO**

**QUE EMPRESA TEVE O
MESMO RESULTADO
EM DOIS ANOS
CONSECUTIVOS?**

**GRÁFICO 5
2 PONTOS**

**QUE EMPRESA
MANTEVE OS
RESULTADOS MAIS
PARECIDOS DURANTE
OS TRÊS ANOS?**

**GRÁFICO 5
3 PONTOS**

**EM QUAIS EMPRESAS
NÃO HOUVE
CRESCIMENTO DE
2018 A 2019?**

**GRÁFICO 5
1 PONTO**

**QUAIS FORAM AS
TRÊS MAIORES
EMPRESAS EM 2018?**

**GRÁFICO 5
2 PONTOS**

**QUAL O ESTILO DE
MÚSICA MAIS
TOCADO?**

**GRÁFICO 6
3 PONTOS**

**QUAL O ESTILO DE
MÚSICA MENOS
TOCADO?**

**GRÁFICO 6
1 PONTO**

**SOME DOIS
ESTILOS MUSICAIS
QUE CHEGUEM NO
VALOR MAIS
PRÓXIMO POSSÍVEL
DO FORRÓ?**

**GRÁFICO 6
2 PONTOS**

**QUAIS DOIS ESTILOS
MUSICAIS TÊM A
MESMA
PORCENTAGEM?**

**GRÁFICO 6
3 PONTOS**

**QUAIS ESTILOS
MUSICAIS TÊM A
MAIOR DIFERENÇA
ENTRE SI?**

**GRÁFICO 6
1 PONTO**

**QUAIS OS ESTILOS
MUSICAIS TÊM A
MENOR DIFERENÇA
ENTRE SI?**

**GRÁFICO 6
2 PONTOS**

**QUAL A SOMA DAS
PORCENTAGENS DAS
MÚSICAS MAIS
TOCADAS, EXCETO O
SERTANEJO?**