

JOGO DAS REDES SOCIAIS

(JOGO DESENVOLVIDO PELAS ACADÊMICAS MARIANA FREIXIELA HERNANDEZ E MARILI CRISTINA MINELLA)

Número de participantes: 02 a 04 Participantes

Conteúdo: Gráficos

Material: Tabuleiro, 50 fichas com questões, peões e 1 dado.

Regras:

- ❖ Os participantes deve escolher um jogador para iniciar a partida.
- ❖ O Participante sorteia uma carta e a responde, baseada no gráfico que corresponde a ficha.
- ❖ Caso o participante acertar tem o direito de jogar o dado e andar o número de casas corresponde ao número do dado.
- ❖ Caso o participante erre, não movimenta o peão.
- ❖ Ganha o jogo quem chegar primeiro na casa denominada “FIM”
- ❖ Para o jogo ficar mais interessante, estabeleça tempo máximo para cada resposta.

Modelo de Gráficos
Gráfico 1

Composição demográfica % das principais redes sociais

Fonte: comScore Media Metrix Multi-Platform, U.S. Idade + 18 anos, Dez 2014

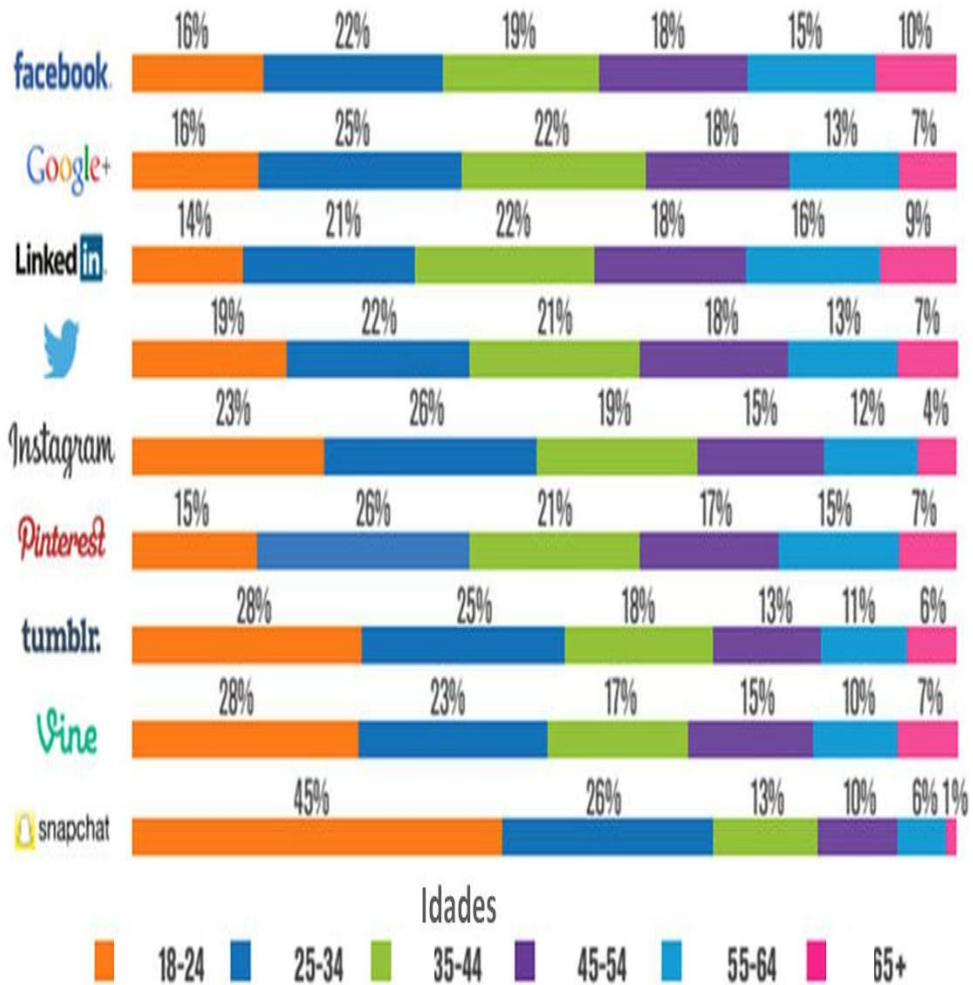
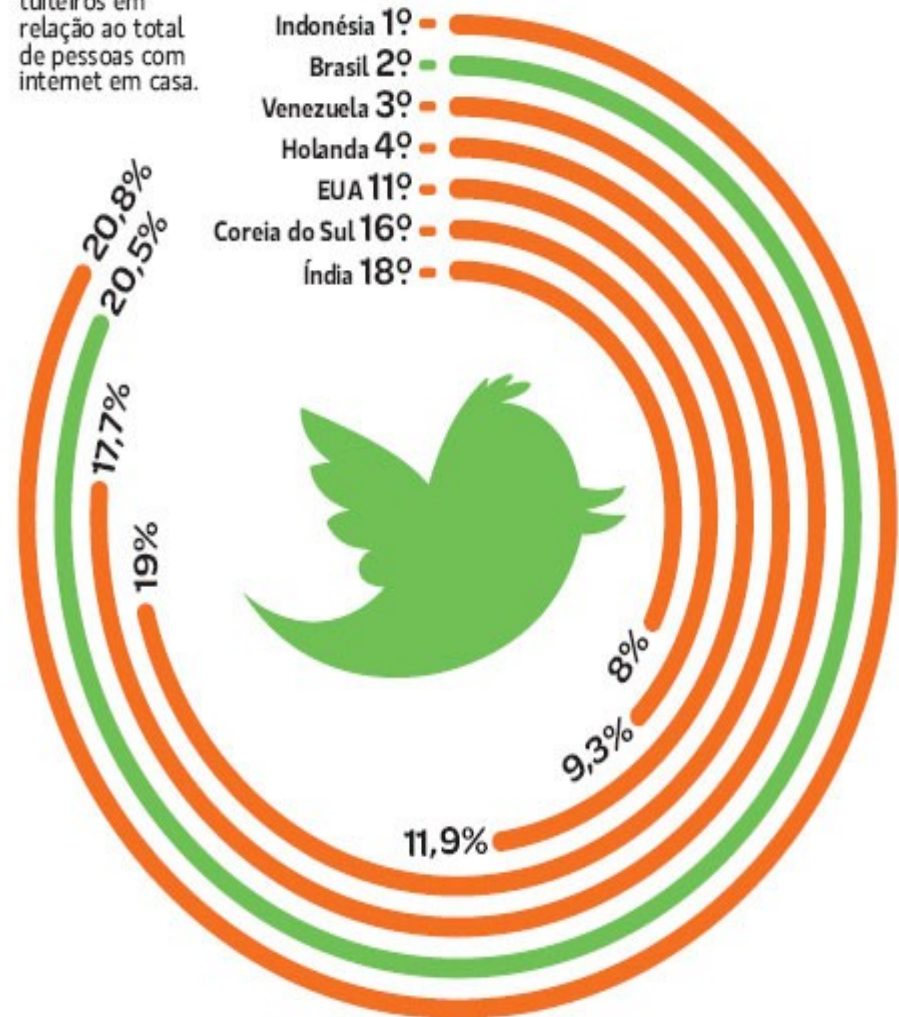


Gráfico 2

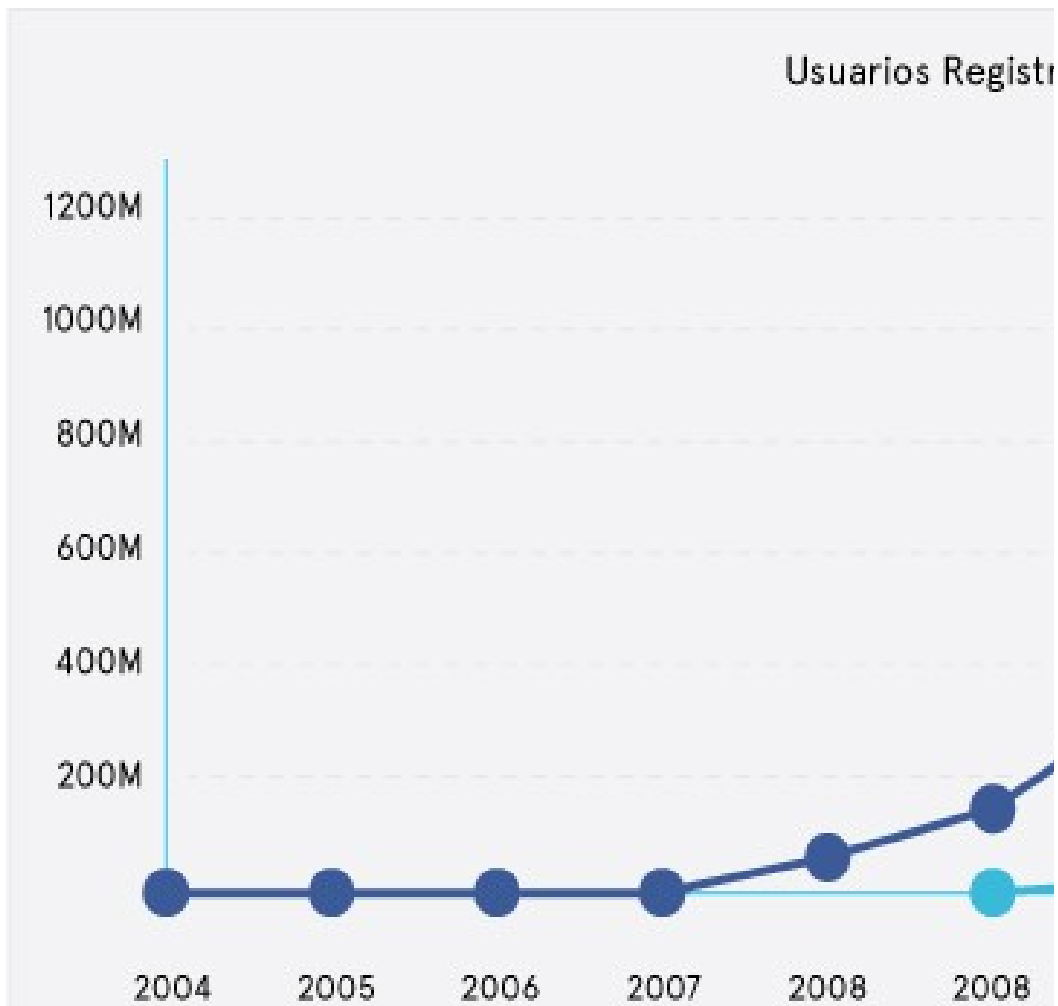
PÓDIO

Países com mais tuiteiros em relação ao total de pessoas com internet em casa.



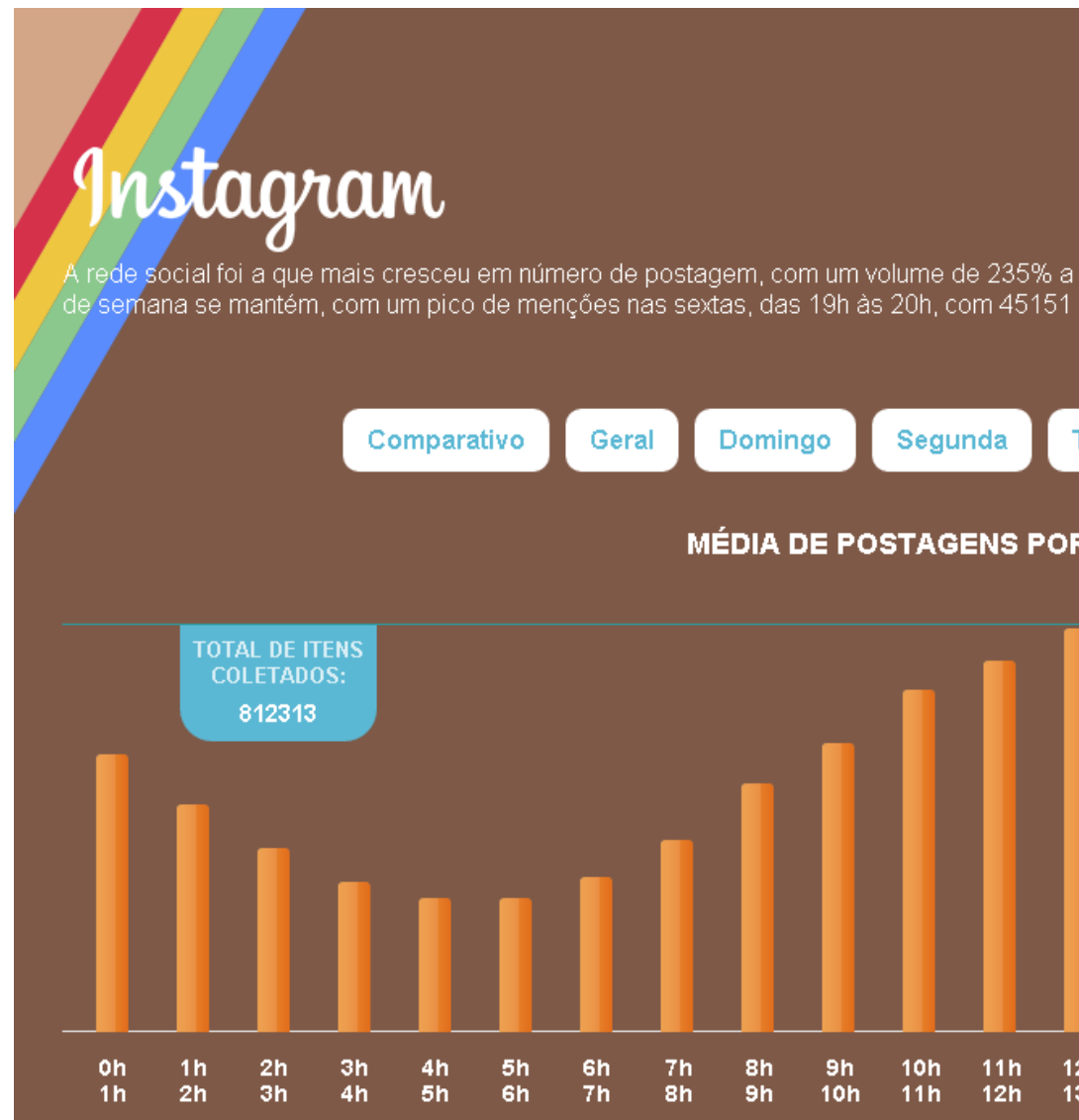
Fonte: Revista Super Interessante, 2010

Gráfico 3



Fonte: Search Engine Journal - O crescimento da mídia social, 2013

Gráfico 4



Fonte: Scup, "Horários Nobres das Redes Sociais, 2013

Gráfico 5

facebook.

Os dias que antecedem o final de semana não são mais o momento preferido para interagir e postar para terça e quarta, responsáveis, cada uma, por 15,9% do volume de menções. O domingo lidera com 808.451 posts.

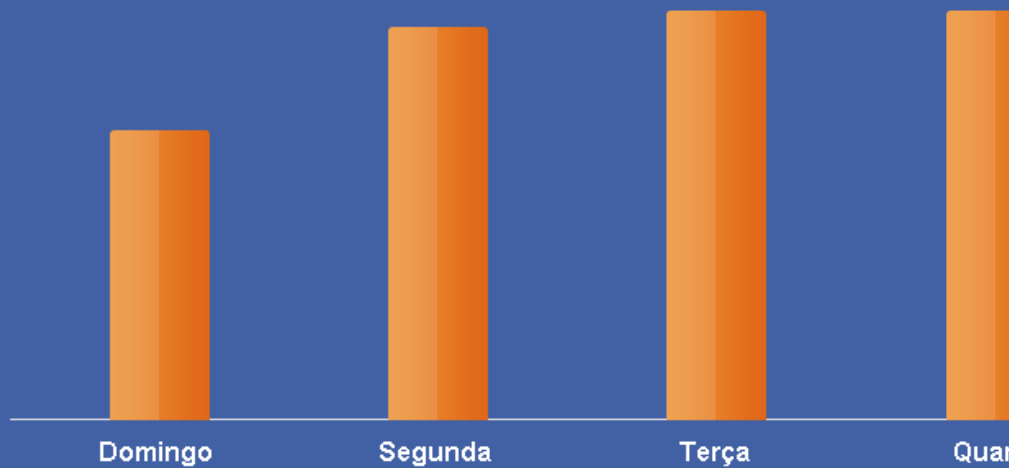
Comparativo

Geral

Domingo

Segunda

PORCENTAGEM DE POSTAGENS



Fonte: Scup, "Horários Nobres das Redes Sociais, 2013"

Gráfico 6

twitter

Apesar do final de semana ter uma queda no volume de menções, o domingo a noite aparece com jogos de futebol, o número de postagens cresce exponencialmente até as 23h. Na sexta-feira...

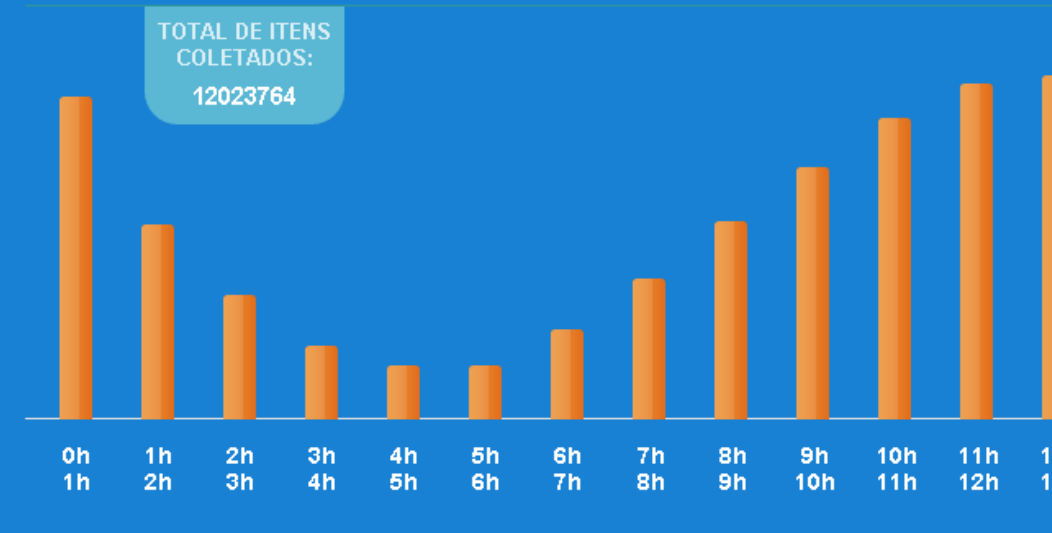
Comparativo

Geral

Domingo

Segunda

MÉDIA DE POSTAGENS POR HORA



Fonte: Scup, "Horários Nobres das Redes Sociais, 2013"

Gráfico 7

O Twitter em números

Veja como o microblog evoluiu nesses cinco anos (2006-2011)

460 mil

novas contas por dia

572 mil

contas criadas em
12 de março de 2011

456 tuítes
por segundo

enviados no dia em que
Michael Jackson morreu

✚ 25/06/2009

6.939 tuítes por segundo, recorde que foi batido 4 segundos
depois da **meia-noite** do Ano-Novo no **Japão**



+ de **200 milhões** de usuários registrados
enviam + de **140 milhões** de tuítes por dia.

3 anos, 2 meses e 1 dia
para chegar ao bilionésimo tuíte

1.000.000.000

marca agora é batida, em média, a cada semana



Usuários móveis

em 2010,
número
aumentou

182%

2010 ✚ **25 bilhões de tuítes**

✚ **+ de 100 milhões de novas contas**



Os mais populares

1 milhão de "topicos"

Fonte: Blog do que?, 2011
Gráfico 8

OS NÚMEROS POR TRÁS DO INSTAGRAM



300 MILHÕES
DE USUÁRIOS ATIVOS

47% HOMENS

53% MULHERES

IDADE




MAIS DE 70%
dos usuários
não são dos EUA.



O Brasil está
ENTRE OS 5 PAÍSES
que mais usam o aplicativo



Funcionalidades traduzidas
em
25 IDIOMAS



Cada usuário gasta, em média,
257 MINUTOS
por mês no aplicativo



70 MILHÕES
de uploads de fotos e vídeos
por dia



1,1 MILHÃO
de curtidas por minuto



1X
65%
das pessoas checam o aplicativo uma
vez por dia



35%
das pessoas checam o aplicativo várias
vezes por dia



Fonte: Viver de Blog, 2015

Gráfico 9

Dados Gerais

a cada segundo acontecem

575 curtidas

81 comentários



comportamento dos usuários

257 minutos por mês

65% acessam todo dia

Cenário Brasil

16 milhões usuários



43 milhões usuários

Por Gênero

39%
6,3 milhões



61%
9,7 milhões

Por Idade

13-17
2 mi

18-25
6,6 mi

26-35
4,3 mi

36-45
1,9 mi

46-55
0,8 mi

56+
0,4 mi

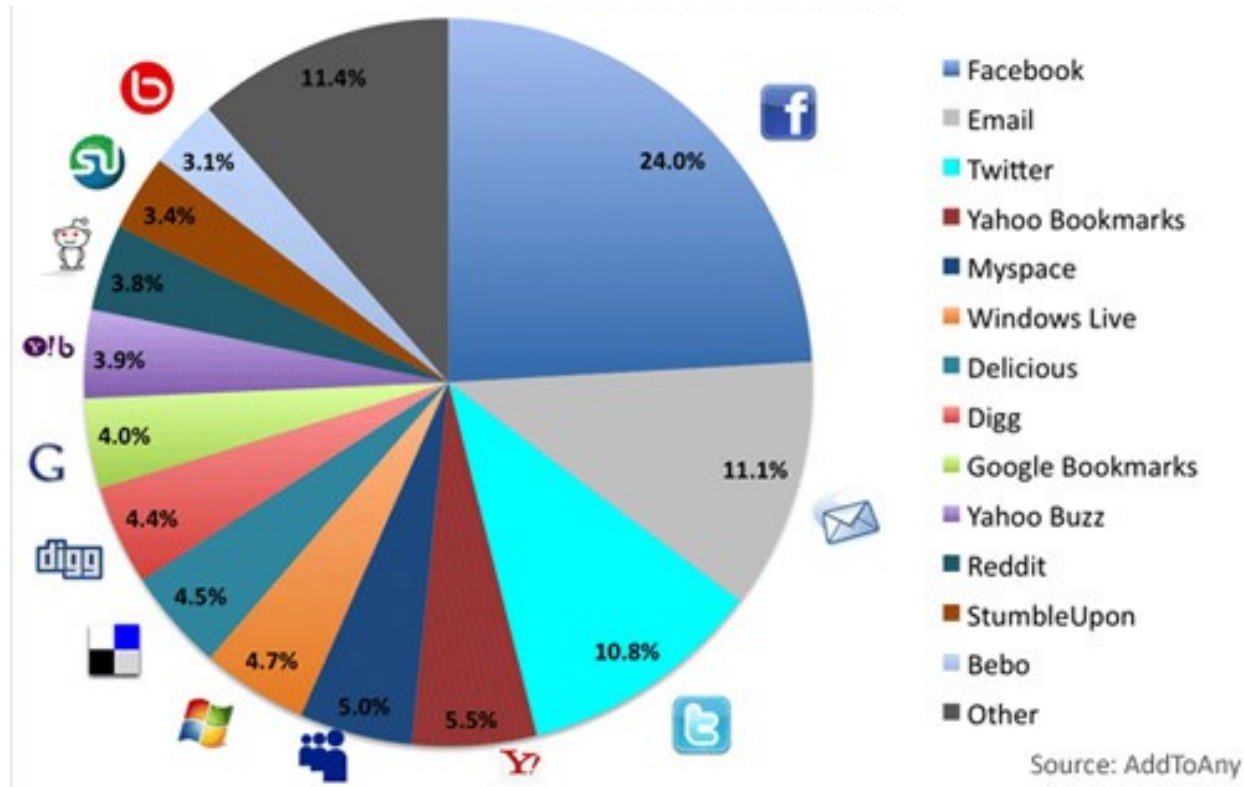
Por Região



Fonte: Viver de Blog, 2015

Gráfico 10

Como as pessoas compartilham conteúdo na Internet



Fonte: AddToAny, 201

Modelo de Questões

1. Qual é a rede que as pessoas mais compartilham conteúdo?

Gráfico 10

3. Qual a rede menos utilizada?

Gráfico 10

2. Qual a diferença de percentual entre os Windows Live e o Twitter na hora de compartilhar conteúdo?

Gráfico 10

5. Quais são as duas redes com menos diferença entre os compartilhamentos realizados?

Gráfico 10

4. Qual é a soma de percentual entre as 3 redes menos utilizadas?

Gráfico 10

3. Qual a região com mais acesso ao Instagram?

Gráfico 9

4. Qual a diferença entre o número de usuários do Brasil e dos Estados Unidos?

Gráfico 9

1. Qual a diferença entre mulheres e homens, em números, que utilizam o Instagram?

Gráfico 9

2. Faça a média de curtidas em uma hora segundo as informações do gráfico.

Gráfico 9

5. Qual a porcentagem que não acessa todos os dias o Instagram?

Gráfico 9

2. Qual a faixa etária que mais utilizou o Instagram no ano de 2015?

Gráfico 8

4. Quanta horas aproximadamente o usuário gasta por mês no aplicativo?

Gráfico 8

3. Qual a média do tamanho de legendas utilizadas no Instagram?

Gráfico 8

1. Qual é o sexo que mais utiliza o Instagram?

Gráfico 8

5. Em porcentagem, as pessoas checam mais de uma vez por dia, ou menos do que uma vez por dia o aplicativo?

Gráfico 8

3. Qual é a média de twittes enviados no ano de 2011?

Gráfico 7

4. Qual é o aumento em porcentagem de usuários do twitter entre 2010 e 2011?

Gráfico 7

1. Qual é o twitter mais popular no ano de 2011?

2. Qual é a diferença de twittes enviados entre o mês de fevereiro e março de 2011?

Gráfico 7

5. Qual é a diferença de seguidores entre o 2° e o 5° mais populares?

Gráfico 7

3. Em quais horários os acessos se mantêm praticamente estáveis?

Gráfico 6

4. Qual é o horários em que possui a maior diferença de acessos?

Gráfico 6

2. Qual é o horários com mais acesso ao Twitter

nas quartas feiras?

Gráfico 6

1. Qual é o horários com menos acesso ao Twitter nas quartas feiras?

Gráfico 6

4. Qual é a soma de acessos entre os dias de segunda a sexta?

Gráfico 5

5. Qual a diferença entre o número total de postagens e a média de postagens da quarta – feira?

Gráfico 6

2. Qual é a diferença de acessos entre Sábado e Domingo?

Gráfico 5

3. Quais os dias que a quantidade acessos é igual?

Gráfico 5

1. Qual é o dia da semana que mais tem acessos no Facebook?

Gráfico 5

5. Qual é o dia da semana que menos tem acessos no Facebook?

Gráfico 5

3. Quais os horários que mais se mantém o acesso?

Gráfico 4

4. Qual é a média de postagens no Instagram no

Sábado?

Gráfico 4

1. O sábado é o dia em que as pessoas mais postam no Instagram, qual é o pico de horário das postagens?

Gráfico 4

2. Qual é o horário em que as pessoas menos postam no Instagram no Sábado?

Gráfico 4

4. Qual é a rede social com menos acesso em 2013?

Gráfico 3

5. Qual é a diferença aproximada de usuários do Facebook entre os anos de 2008 a 2013?

Gráfico 3

2. Qual é a rede social que mais teve acesso em 2013, o Google + ou o Twitter?

Gráfico 3

3. Qual é a rede social que teve a maior mudança brusca entre 2012 e 2013?

Gráfico 3

5. Você acredita que o twitter é popular no Brasil, segundo o gráfico?

Gráfico 2

1. Qual é a rede social que se manteve no topo de acessos entre 2004 e 2013?

Gráfico 3

3. O Brasil está em que colocação entre as pessoas que mais twittam?

Gráfico 2

4. Qual é diferente de percentual entre a Venezuela e o Estados Unidos em relação as pessoas que mais twittam?

Gráfico 2

1. Qual país que as pessoas que mais twittam?

Gráfico 2

2. Qual é o país que as pessoas que menos twittam ?

Gráfico 2

5. Em qual rede social as pessoas entre 18 e 24 anos mais acessam?

Gráfico 1

6. Entre a faixa etária dos 45 ao 54 anos qual é a rede social com menos acesso?

Gráfico 1

3. Qual é a faixa etária co menos acesso ao Snapchat?

Gráfico 1

4. Quanto é a porcentagem de acessos dos 18 aos 54 anos no Instagram?

Gráfico 1

1. Qual a é a faixa etária com mais acesso ao Facebook?

Gráfico 1

2. Quanto é a porcentagem de acessos dos 35 aos 54 anos no Twitter?

Gráfico 1

Jogo das redes sociais

